

Név, osztály: _____

Érdemjegy: _____

Számok és műveletek 2.

Tudáspróba 6. osztály

1. Írd be a hiányzó mérőszámokat!

6 p	
-----	--

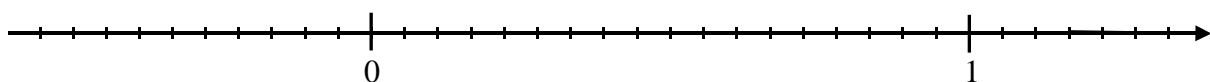
$4,75 \text{ m} = \dots \text{ km} = \dots \text{ dm} = \dots \text{ mm}$

$0,0476 \text{ t} = \dots \text{ kg} = \dots \text{ cg} = \dots \text{ dkg}$

2. Ábrázold számegyenesen a következő számokat!

9 p	
-----	--

$$\frac{19}{18} \quad -\frac{1}{2} \quad \frac{5}{18} \quad \frac{10}{9} \quad -\frac{1}{6} \quad 0,5 \quad \frac{5}{6} \quad 1\frac{1}{3} \quad -\frac{5}{10}$$



3. Végezd el a műveleteket!

4 p	
-----	--


$4,26 \cdot 10000 = \dots \quad 523,6 : 100000 = \dots$

$263,5 \cdot 0,00001 = \dots \quad 0,62 : 0,001 = \dots$

4. Végezd el a műveleteket!


12 p	
------	--

$47,8 - 7,78 = \dots \quad 335,7 + 139,298 = \dots$



$-21,4 \cdot 0,16 = \dots$

$9,96 : 2,4 = \dots$



$1,05 + 0,6 \cdot 4,5 - 127,5 : 0,75 = \dots$

